


# あわせていくつ

左と右の動物は合わせて何匹ですか。四角の中に赤色で丸をつけましょう。



--	--	--	--	--	--	--	--	--	--



--	--	--	--	--	--	--	--	--	--




--	--	--	--	--	--	--	--	--	--




# あわせていくつ


左と右の動物は合わせて何匹ですか。四角の中に赤色で丸をつけましょう。



--	--	--	--	--	--	--	--	--	--



--	--	--	--	--	--	--	--	--	--




--	--	--	--	--	--	--	--	--	--





# あわせていくつ


左と右の果物は合わせて何個ですか。四角の中に青色で丸をつけましょう。



--	--	--	--	--	--	--	--	--	--



--	--	--	--	--	--	--	--	--	--





--	--	--	--	--	--	--	--	--	--




# あわせていくつ



左と右の生き物は合わせて何匹ですか。四角の中に青色で丸をつけましょう。



--	--	--	--	--	--	--	--	--	--



--	--	--	--	--	--	--	--	--	--




--	--	--	--	--	--	--	--	--	--



# あわせていくつ

左と右の昆虫は合わせて何匹ですか。四角の中に青色で丸をつけましょう。



--	--	--	--	--	--	--	--	--	--



--	--	--	--	--	--	--	--	--	--



--	--	--	--	--	--	--	--	--	--



# あわせていくつ

左と右の乗り物は合わせて何台ですか。四角の中に緑色で丸をつけましょう。



--	--	--	--	--	--	--	--	--	--



--	--	--	--	--	--	--	--	--	--





--	--	--	--	--	--	--	--	--	--




# あわせていくつ


左と右の恐竜は合わせて何頭ですか。四角の中に青色で丸をつけましょう。



--	--	--	--	--	--	--	--	--	--



--	--	--	--	--	--	--	--	--	--




--	--	--	--	--	--	--	--	--	--



# あわせていくつ


左と右の装飾は合わせて何個ですか。四角の中に青色で丸をつけましょう。



--	--	--	--	--	--	--	--	--	--



--	--	--	--	--	--	--	--	--	--



--	--	--	--	--	--	--	--	--	--





# あわせていくつ

左と右の人は合わせて何人ですか。四角の中に青色で丸をつけましょう。



--	--	--	--	--	--	--	--	--	--



--	--	--	--	--	--	--	--	--	--



--	--	--	--	--	--	--	--	--	--





# あわせていくつ



左と右の花は合わせて何本ですか。四角の中に青色で丸をつけましょう。



--	--	--	--	--	--	--	--	--	--



--	--	--	--	--	--	--	--	--	--



--	--	--	--	--	--	--	--	--	--

