



いくつたりない



花を全部で10本にするにはあと何本足りませんか。
その数を四角の中に緑色で丸をつけましょう。



--	--	--	--	--	--	--	--	--	--



--	--	--	--	--	--	--	--	--	--



--	--	--	--	--	--	--	--	--	--

