




いくつたりない



動物を全部で10匹にするにはあと何匹足りませんか。
その数を四角の中に赤色で丸をつけましょう。



--	--	--	--	--	--	--	--	--	--



--	--	--	--	--	--	--	--	--	--



--	--	--	--	--	--	--	--	--	--

