





いくつたりない


果物を全部で10個にするにはあと何個足りませんか。
その数を四角の中に赤色で丸をつけましょう。



--	--	--	--	--	--	--	--	--	--



--	--	--	--	--	--	--	--	--	--



--	--	--	--	--	--	--	--	--	--

