




# いくつたりない


海の生き物を全部で10匹にするにはあと何匹足りませんか。  
その数を四角の中に赤色で丸をつけましょう。



--	--	--	--	--	--	--	--	--	--



--	--	--	--	--	--	--	--	--	--



--	--	--	--	--	--	--	--	--	--

