




いくつたりない



恐竜を全部で10頭にするにはあと何頭足りませんか。
その数を四角の中に赤色で丸をつけましょう。



--	--	--	--	--	--	--	--	--	--



--	--	--	--	--	--	--	--	--	--



--	--	--	--	--	--	--	--	--	--

