



ちがいはいくつ



左と右の花の数は何本違いますか。
その数だけ四角の中に緑色で丸をつけましょう。



--	--	--	--	--	--	--	--	--	--



--	--	--	--	--	--	--	--	--	--



--	--	--	--	--	--	--	--	--	--

