




ちがいはいくつ

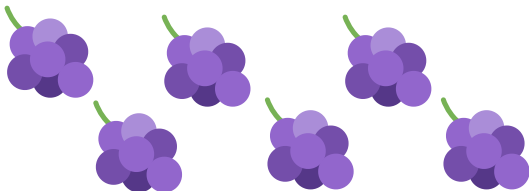
左と右の果物の数は何個違いますか。
その数だけ四角の中に赤色で丸をつけましょう。



--	--	--	--	--	--	--	--	--	--



--	--	--	--	--	--	--	--	--	--



--	--	--	--	--	--	--	--	--	--