



# あわせていくつ


左と右の乗り物は合わせて何台ですか。四角の中に緑色で丸をつけましょう。



--	--	--	--	--	--	--	--	--	--



--	--	--	--	--	--	--	--	--	--



--	--	--	--	--	--	--	--	--	--

